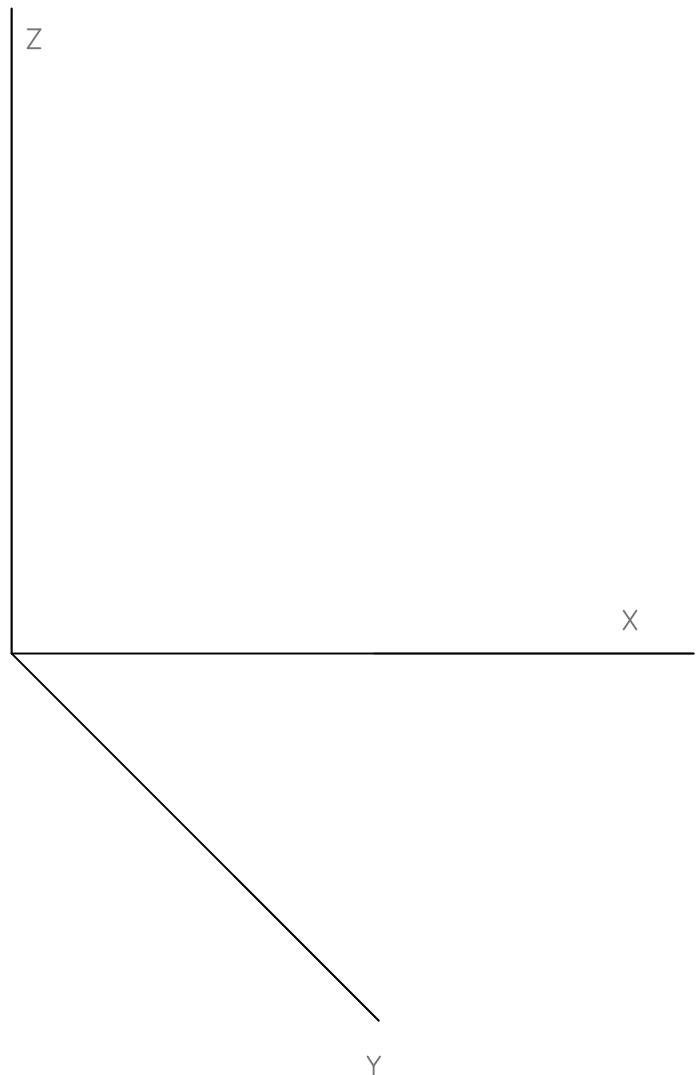
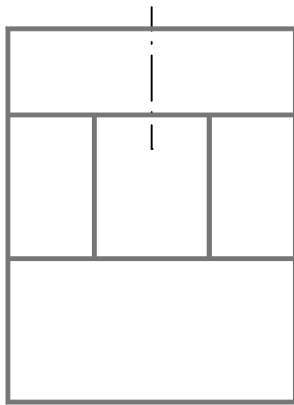
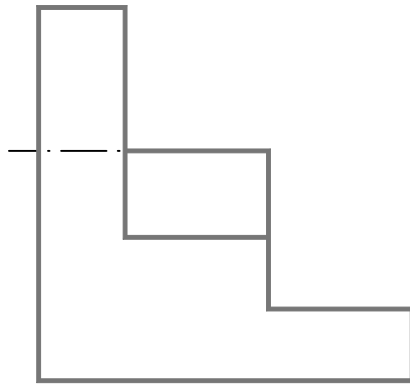
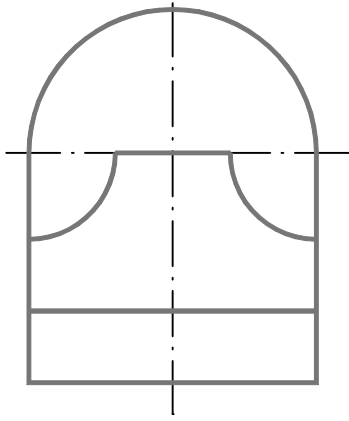


Dada la pieza definida por su alzado, planta y perfil izquierdo, según el método de representación del primer diedro de proyección, se pide:

Dibujar la perspectiva caballera a escala 4:5 según los ejes dados, con coeficiente de reducción de 2/3.



Dibujado		Firma	I.E.S. FERNANDO III EL SANTO
Comprobado	Nicolás Rodríguez L.		
Fecha			
Curso:	SELECTIVIDAD JUNIO-2008 / OPC II - Probl - trazado Geometrico		Lámina