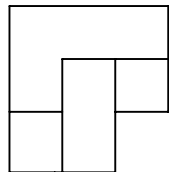
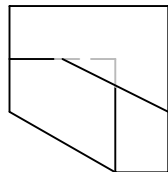
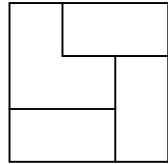
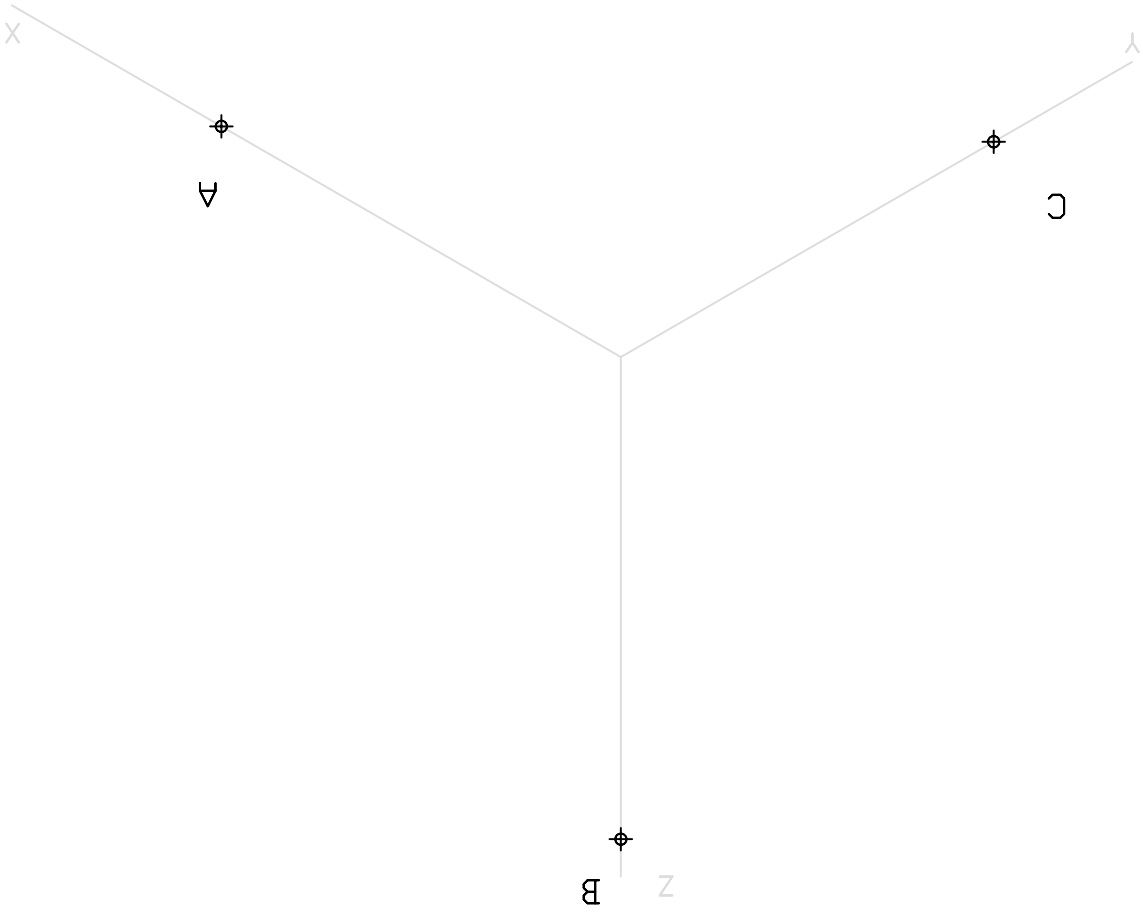


Lámina:	Selectividad Junio-02 - Opc 2 - Ejerc-2		Escala:
I.E.S. FERNANDO III EL SANTO			Fecha:
		Nicolas Rdoríguez	Comprob.:
			Dibujado:



Se define una pieza por las vistas dadas, en el primer diedro, y a escala 1 / 1. Se pide:
a) Dibujar la perspectiva isométrica, a escala 2 / 1 (Sin aplicar escalas axonométricas)
b) Determinar la sección producida por el plano que pasa por los puntos A, B y C que se encuentran sobre los ejes X, Y, Z respectivamente.