
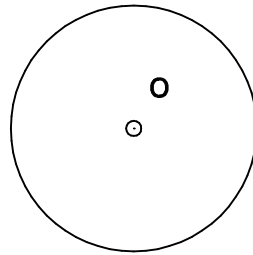
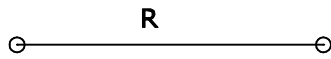


3.5 Determina las circunferencias de radio R tangentes a una recta y una circunferencia (Rrc)

3.5.1 Cuando la circunferencia y la recta son exteriores



3.5.2 Cuando la circunferencia y la recta son tangentes

